

Name: _____ Datum: _____ Klasse: _____

Rechnen im Kopf + -


1. Rechne und finde die Regel. Setze die Reihe fort.

a) $300+200=$ ____ $400+200=$ ____ $500+200=$ ____ _____ _____	b) $100+160=$ ____ $100+260=$ ____ $100+360=$ ____ _____ _____	c) $150+200=$ ____ $250+200=$ ____ $350+200=$ ____ _____ _____	d) $550+160=$ ____ $450+260=$ ____ $350+360=$ ____ _____ _____
--	--	--	--

2. Rechne und finde die Regel. Setze die Reihe fort.

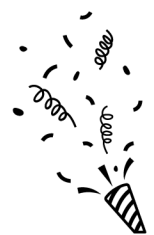
d) $400-200=$ ____ $500-200=$ ____ $600-200=$ ____ _____ _____	d) $350-200=$ ____ $450-200=$ ____ $550-200=$ ____ _____ _____	d) $980-200=$ ____ $880-200=$ ____ $780+200=$ ____ _____ _____	d) $950-420=$ ____ $850+320=$ ____ $750+220=$ ____ _____ _____
--	--	--	--

3. Bilde mit den Aufgaben drei Entdeckerreihen!



$300+300$	$210+700$	$350+150$
$150+150$	$510+400$	$200+200$
$310+600$	$450+150$	$410+500$
$100+100$	$400+400$	$250+150$





Name: _____ Datum: _____ Klasse: _____

Lösungen -> Rechnen im Kopf + -



1. Rechne und finde die Regel. Setze die Reihe fort.

a) $300+200=500$ $400+200=600$ $500+200=700$ <u>$600+200=800$</u> <u>$700+200=900$</u>	b) $100+160=260$ $100+260=360$ $100+360=460$ <u>$100+460=560$</u> <u>$100+560=660$</u>	c) $110+100=210$ $220+200=420$ $330+300=630$ <u>$440+400=840$</u> <u>$550+500=950$</u>	d) $550+160=710$ $450+260=710$ $350+360=710$ <u>$250+460=710$</u> <u>$150+560=710$</u>
--	--	--	--

2. Rechne und finde die Regel. Setze die Reihe fort.

d) $400-200=200$ $500-200=300$ $600-200=400$ <u>$700-200=500$</u> <u>$800-200=600$</u>	d) $350-130=220$ $450-140=310$ $550-150=400$ <u>$650-160=490$</u> <u>$750-170=580$</u>	d) $980-250=730$ $880-250=630$ $780-250=530$ <u>$680-250=430$</u> <u>$580-250=330$</u>	d) $920-520=400$ $820-420=400$ $720-320=400$ <u>$620-220=400$</u> <u>$520+120=400$</u>
--	--	--	--

3. Bilde mit den Aufgaben drei Entdeckerreihen!



300+300 210+700 350+150

150+150 510+400 200+200

310+600 450+150 410+500

100+100 400+400 250+150

$100+100=200$
$200+200=400$
$300+300=600$
$400+400=800$

$150+150=300$
$250+150=400$
$350+150=500$
$450+150=600$

$210+700=910$
$310+600=910$
$410+500=910$
$510+400=910$

