


MINUSRECHNEN


LÖWENSTARKE  
RECHENAUFGABEN  
ZAHLENRAUM 5




I. KLASSE




$$\underline{\quad\quad\quad} - \underline{\quad\quad\quad} =$$



$$\underline{\quad\quad\quad} - \underline{\quad\quad\quad} =$$



$$\underline{\quad\quad\quad} - \underline{\quad\quad\quad} =$$



$$\underline{\quad\quad\quad} - \underline{\quad\quad\quad\quad\quad\quad\quad} =$$

Zähle zuerst alle Löwen einer Zeile und schreibe die Menge ins erste Kästchen. Dann zähle die durchgestrichenen Löwen und schreibe diese Menge ins zweite Kästchen. Nun rechnest Du die erste Zahl minus die zweite Zahl und schon hast Du die Lösung!

**DU BIST KLASSE!**